



T.C.  
MİLLÎ EĞİTİM BAKANLIĞI

**i-3**

**AÇIK İLKÖĞRETİM OKULU**  
**2007 - 2008 ÖĞRETİM YILI NOT YÜKSELTME SINAVI**  
**3. OTURUM: 18 MAYIS 2008 Saat: 10.00**

Adayın Adı ve Soyadı :

Aday Numarası :

**DİKKAT:1.** Bu oturumda, 4 derse ait test soruları yer almaktadır.

**TÜRKÇE - 7**

**FEN BİLGİSİ - 7**

**VATANDAŞLIK ve İNSAN HAKLARI - 7**

**DİN KÜLTÜRÜ ve AHLAK BİLGİSİ - 7**

2. Adaylar soru kitapçıklarını kontrol ederek baskı hatası olan kitapçığın değiştirilmesi için sınav başlamadan önce salon sorumlularına başvuracaklardır.
3. Sınavda hesap makinesi, cep telefonu ve çağrı cihazı kullanılması yasaktır. Bu cihazları sınav başlamadan önce salon başkanına teslim ediniz.

**CEVAP KÂĞIDI İLE İLGİLİ AÇIKLAMA**

1. Cevap kâğıdı üzerine yapacağınız işaretlemelerde kurşun kaleminden başka hiçbir kalem kullanmayınız.
2. Verilen cevap kâğıdında yazılı olan bilgilerin size ait olup olmadığını kontrol ediniz. Size ait değilse salon sorumlularına söyleyiniz. Adınıza yazılı cevap kâğıdı bulunamıyorsa veya cevap kâğıdınız kullanılamayacak şekilde bozursa, verilecek olan yedek cevap kâğıdına, kimliğinizle ilgili bilgileri, salon başkanının açıklamalarına göre yazınız.
3. Sınavda tek cevap kâğıdı kullanılacaktır. Cevaplarınızı cevap kâğıdındaki ilgili sütunlara aşağıdaki örnekte olduğu gibi yuvarlağı, dışına taşırmadan işaretleyiniz. Yanlış karalamalarınızı düzeltirken yuvarlağın içini temizce siliniz. Cevap kâğıdınızı buruşturmayınız, katlamayınız ve üzerine gereksiz işaret koymayınız.

**ÖRNEK KODLAMA:**

**(A) (B) (C) (D)**

**TEST KİTAPÇIĞI İLE İLGİLİ AÇIKLAMA**

1. Her ders için **20 soru** bulunmaktadır. Bu oturum için, toplam **150 dakikalık** cevaplama süreniz vardır.  
**Not:** Öğrencinin kaç dersi olursa olsun, isterse bu sürenin tamamını kullanabilir.
2. Her sorunun dört seçeneğı vardır. Dört seçenekten sadece bir tanesi doğru cevaptır. Doğru bulduğunuz seçeneğı, cevap kâğıdında o soru için ayrılan yerde bularak işaretleyiniz.
3. Size ayrı bir karalama kâğıdı verilmeyecektir. Soru kitapçığınızın içindeki boş alanları karalama yapmak için kullanabilirsiniz.
4. Puanlamada, her doğru cevaba puan verilecek; yanlış cevaplarınız dikkate alınmayacaktır.
5. Sınavın bitiminde cevap kâğıdınızı ve soru kitapçığınızı salon sorumlularına teslim etmeyi unutmayınız.

Soracağınız bir şey var mı? Varsa şimdi sorunuz; sınav başladıktan sonra sorularınıza cevap verilmeyecektir. Hazır mısınız? Sınav, okulun bütün salonlarında aynı anda başlayacağı için başlama zilini beraberce bekleyelim. Hepinize başarılar dileriz.

**(Salon başkanı başlama ve bitiş saatini tahtaya yazacaktır.)**

**BAŞLAYINIZ DENİLMEDEN SORU KİTAPÇIĞINI AÇMAYINIZ**

### 3. OTURUM

#### TÜRKÇE - 7

1. Makale, sohbet gibi yorum yazılarının özetinde aşağıdakilerden hangisi bulunur?

- A) Ana düşünce B) Örnekler  
C) Karşılaştırmalar D) Kişiler

2. Aşağıdakilerden hangisi “a” sesinin bir özelliği değildir?

- A) Düz B) Geniş  
C) Yuvarlak D) Kalın

3. Aşağıdaki sözcüklerden hangisi küçük ünlü uyumuna uymaz?

- A) Korkuluk B) Görüntü  
C) Kömür D) Operatör

4. Aşağıdakilerin hangisinde ünsüz benzeşmesi vardır?

- A) Dokumacı B) Kitapçı  
C) Sevgiyle D) İncelemek

5. Aşağıdakilerin hangisi yumuşak ünsüzlerden biridir?

- A) g B) f C) ç D) t

6. Konuşurken ve okurken, duygu ve düşünceleri daha iyi anlatmak için sesi alçaltma veya yükseltmeye ne ad verilir?

- A) Tümce vurgusu B) Tonlama  
C) Duraklama D) Sözcük vurgusu

7. Bir şiirin bölümlerindeki dize sayısına ne ad verilir?

- A) Hece ölçüsü B) Manzume  
C) Nazım birimi D) Durak

8. Veysel, günler geçti yaş altmış oldu,  
Döküldü yaprağım güllerin soldu,  
Gemi yükün aldı gam ile doldu,  
Harekete kimse mânî olamaz.

Aşık Veysel

Aşağıdakilerin hangisi bu dörtlüğün redifidir?

- A) ol B) du C) maz D) mış

9. Aşağıdakilerden hangisi birleşik sözcük değildir?

- A) Kuşburnu B) Keçiboynuzu  
C) Yer çekimi D) İnsaniyetli

10. Aşağıdakilerin hangisinde altı çizili sözcük gerçek anlamı dışında kullanılmıştır?

- A) Lokomotifin öksürükleri kötü günlerin habercisiydi.  
B) Evinden işine motosikletle gidiyor.  
C) Gülümseyişinde içten gelen bir acıma vardı.  
D) Siz benim hakkımda hüküm vermişsiniz.

11. Aşağıdakilerden hangisi betimleme cümlesi değildir?

- A) Soğuktan camlar çatlamıştı.  
B) Üstünde ceketi olmadığından titriyordu.  
C) Üzerinde gül kırmızısı bir ceket vardı.  
D) Hemen yola çıkması gerekiyordu.

12. “Sonra güzel insanlar güzel atlara binip gittiler.” cümlesinin öznesi aşağıdakilerden hangisidir?

- A) Güzel insanlar B) Güzel atlara  
C) Sonra D) Binip

13. “Elindeki gülleri annesine uzattı.” cümlesinin düz tümleci (nesnesi) aşağıdakilerden hangisidir?

- A) Elindeki gülleri B) Annesine  
C) Uzattı D) Gülleri annesine

14. Aşağıdaki altı çizili kelimelerin hangisinde kesme işareti kullanılmaz?

- A) NATODan gelen yetkililerle konuştuk.  
B) Bu konu yönetmeliğin 8inci maddesinde yer alır.  
C) Kuran okumayı kendi kendine öğrenmişti.  
D) Türkçeden İspanyolcaya çeviri yapıyordu.

15. “Köylerde çolak (1) kambur (2) sağır (3) kör gibi lâkaplar veriliyor (4) insanların kusurları vurgulanıyordu.” cümlesinde numaralandırılmış yerlerden hangisine noktalı virgül (;) konmalıdır?

- A) 1 B) 2 C) 3 D) 4

### 3. OTURUM

16. "Bilirim, sen eski okulunu ve onun küçük bahçesini çok seversin." cümlesinde altı çizili kelimelerin zıt anlamlıları aşağıdakilerin hangisinde verilmemiştir?

A) Yeni B) Az C) Ufak D) Büyük

17. Aşağıdakilerin hangisi "geliyorum" fiili için söylenemez?

A) Şahsı, I. tekil şahıstır.  
B) Zamanı, geniş zamandır.  
C) "Gel -" fiil köküdür.  
D) "- um" eki fiilin şahsını ifade eder.

18. Aşağıdakilerden hangisinin sestesi yoktur?

A) Ben B) Çay C) Yüz D) Bir

19. Aşağıdakilerin hangisinde eş anlamlı sözcükler birlikte verilmemiştir?

A) Tabiat – doğa B) Sorun – mesele  
C) Endişe – neşe D) Rezerv – birikim

20. Düz tümleç (nesne) alamayan fiillere ne denir?

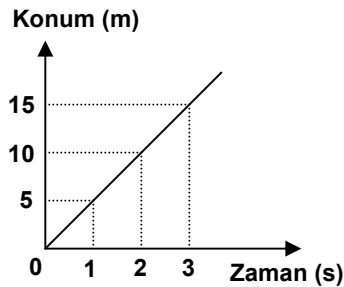
A) Geçişli B) Geçişsiz  
C) Etken D) Edilgen

#### FEN BİLGİSİ - 7

1. Hızı 2 m/s olan bir cisim 4 saniyede kaç metre yol alır?

A) 2 B) 4 C) 6 D) 8

2. Konum-zaman grafiği verilen cismin hızı kaç m/s'dir?



A) 5 B) 10 C) 15 D) 30

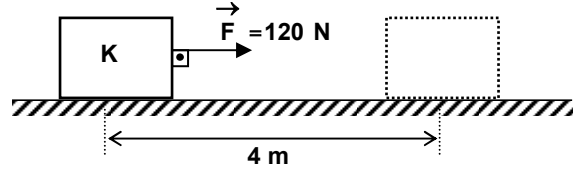
3. 20 m/s kaç km/h'e eşittir?

A) 108 B) 72 C) 36 D) 18

4. Bir otobüs 60 km/h'lik hızla 2 saat, 80 km/h'lik hızla 3 saat yol alıyor. Otobüsün ortalama hızı kaç km/h'tir?

A) 68 B) 70 C) 72 D) 74

- 5.



Yatay yolda durmakta olan K cismine

120 N'luk  $\vec{F}$  kuvveti şekildeki gibi uygulanarak K'nın 4 m yer değiştirmesi sağlanıyor. Buna göre  $\vec{F}$  kuvvetinin yaptığı iş kaç Joule'dür?

A) 30 B) 120 C) 240 D) 480

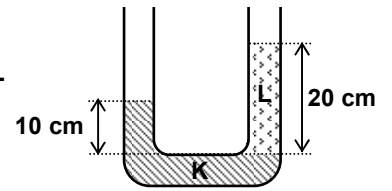
6. Ağırlığı 80 N olan bir kutunun yere değme yüzeyi 20 cm<sup>2</sup> dir. Buna göre, yüzeyde oluşan basınç kaç Paskal'dır?

A) 40000 B) 4000 C) 400 D) 40

7. Deniz seviyesinden yükseklerle çıkıldıkça açık hava basıncı her 10,5 metrede 1 mm cıva azalır. Bir şehirde açık hava basıncı 66 cm cıvadır. Buna göre bu şehrin denizden yüksekliği kaç metredir?

A) 100 B) 520 C) 1050 D) 1420

8. Birbirine karışmayan K ve L sıvıları U borusuna konulduklarında şekildeki gibi dengede kalıyorlar. L'nin özkütlesi 4 g/cm<sup>3</sup> olduğuna göre, K'nın özkütlesi kaç g/cm<sup>3</sup> tür?

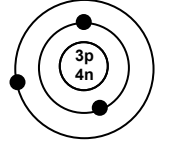


A) 2 B) 4 C) 6 D) 8

### 3. OTURUM

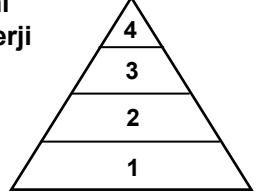
9. Şekildeki su cendresinde küçük pistonun kesiti  $10 \text{ cm}^2$ , büyük pistonun kesiti  $2 \text{ m}^2$  dir. Küçük pistona uygulanan  $\vec{F}_1$  kuvveti, büyük pistona  $2000 \text{ N}$  olarak iletildiğine göre,  $\vec{F}_1$  kuvveti kaç N'dur?
- A) 1 B) 10 C) 100 D) 1000
10. Hacmi  $500 \text{ cm}^3$  olan cisim, tamamı batmış olarak su içinde dengededir. Cisme etki eden kaldırma kuvveti kaç Newton'dur?
- ( $d_{\text{su}} = 1000 \text{ kg/m}^3$ ,  $\vec{g} = 10 \text{ N/kg}$ )
- A) 0,5 B) 5 C) 50 D) 500
11. Aşağıdaki maddelerden hangisi oda sıcaklığında bekletilirse sıvı hâle geçer?
- A) Margarin B) Parfüm  
C) Şeker D) Buz
12. Aşağıdakilerden hangisi fiziksel değişmeye örnektir?
- I- Yazın tellerin uzaması  
II- Peynirin küflenmesi  
III- Naftalinin erimesi
- A) I – II B) I – III C) II – III D) I – II – III
13. Aşağıdakilerden hangisi homojen bir karışımdır?
- A) Tuzlu su B) Çamurlu su  
C) Tebeşirli su D) Kumlu su
14. Aşağıdaki maddelerden hangisi elektroliz yöntemiyle bileşenlerine ayrıştırılır?
- A) Şeker B) Demir  
C) Su D) Zeytinyağı
15. Atomun yapısı ile ilgili aşağıdakilerden hangisi yanlıştır?
- A) Yüksüz bir atomda proton sayısı, elektron sayısına eşittir.  
B) Elektronun kütlesi protonun kütlesinden büyüktür.  
C) Proton ve nötron sayılarının toplamı, kütle numarasını verir.  
D) Atomun çekirdeği proton ve nötrondan oluşur.

16. Şekilde verilen atom modelinde kaç elektron vardır?



- A) 3 B) 4 C) 7 D) 10

17. Fotosentezle kendi besinini yapan bir canlı yandaki enerji piramidinde kaç numaralı kısımda yer alır?



- A) 1 B) 2 C) 3 D) 4

18. Aşağıdakilerden hangisi karbon elementi kaynaklarından değildir?

- A) Canlı solunumu  
B) Fosil yakıtların yakılması  
C) Yıldırım ve şimşek oluşması  
D) Ölü bitki ve hayvanların ayrıştırılması

19. Aşağıdakilerden hangileri çevrenin korunmasında etkilidir?

- I- Türlerin yaşadıkları ortamda devamlılığının sağlanması  
II- Bilinçli tarım yapılması  
III- Geri dönüşümlü ürünlerin kullanılması

- A) Yalnız II B) I – II  
C) I – III D) I – II – III

20. Aşağıdakilerden hangisi çevre tahribatına neden olur?

- A) Atıkların yeniden değerlendirilmesi  
B) Toprağın fazla gübrelenmesi  
C) Nüfus artışının engellenmesi  
D) Fabrika bacalarına filtre takılması

### 3. OTURUM

#### VATANDAŞLIK ve İNSAN HAKLARI - 7

1. Aşağıdakilerden hangisi insanı insan yapan niteliklerden değildir?

- A) Hoşgörü B) Dayanışma  
C) Bencillik D) Dürüstlük

2. • Kuşaklar boyunca tüm insanların oluşturduğu bilgi, deneyim ve kültür birikimidir.  
• Geçmişte yaşayan tüm insanların katkılarıyla oluşmuştur.

Verilenlerle anlatılmak istenen kavram hangisidir?

- A) Ortak miras B) İnsan  
C) Özgürlük D) Toplum

3. • Olaylar arasında neden sonuç ilişkisi kurarak yasalara ulaşmaya çalışır.  
• Deney ve gözleme dayanır.  
• Sistemli bilgiler bütünüdür.

Verilenlerin tümü aşağıdakilerden hangisinin özelliklerindendir?

- A) Sanatın B) Edebiyatın  
C) Bilimin D) Felsefenin

4. Aşağıdakilerden hangisi astronomi alanında isim yapmış bilim adamlarındandır?

- A) İbn-i Sina B) Kopernik  
C) Arşimed D) Descartes

5. Aşağıdakilerden hangisi, ortak miras için söylendiğinde yanlış olur?

- A) Kütüphaneler ve müzeler ortak mirasın korunduğu yerlerdir.  
B) Bütün dünya uluslarının katkılarıyla oluşmuştur.  
C) Gelecek kuşaklara aktarılmalıdır.  
D) Gelişmiş ülkeler arasında paylaşılmalıdır.

6. Birleşmiş Milletler Cemiyeti'nin dünya barışını ve insan haklarını korumak amacıyla 10 Aralık 1948'de imzaladığı bildirge aşağıdakilerden hangisidir?

- A) İnsan Hakları Evrensel Bildirgesi  
B) Büyük Özgürlük Bildirisi  
C) Amerikan Bağımsızlık Bildirgesi  
D) Fransız İnsan ve Yurttaş Hakları Bildirgesi

7. İnsan hakları kavramıyla ilgili olarak verilen aşağıdaki yargılardan hangisi yanlıştır?

- A) Bütün insanların yalnızca insan olmalarından kaynaklanan haklardır.  
B) Temel amacı, insanın değerini korumak ve geliştirmektir.  
C) Bireylere tanınmış sınırsız haklardır.  
D) Evrensel nitelikte haklardır.

8. "Bir düşüncenin, bir ilkenin ya da bir hakkın bütün insanlık için değer taşıması" biçiminde tanımlanan sözcük aşağıdakilerden hangisidir?

- A) Toplumsal B) Özgürlük  
C) Adalet D) Evrensel

9. Aşağıdakilerden hangisi insan hakları kişiler tarafından davranışa dönüştürülürken uyulması gereken ilkelerden değildir?

- A) Sahip olunan hakların çiğnenmesine izin vermemek  
B) Haklarını aramak için yasal yollara başvurmak  
C) Haklarını koruyan kişilere yardımcı olmak  
D) Kendi hakkını kullanırken başkalarının haklarına engel olmak

10. İnsan hakları, hukukun temel ilkeleri olarak alındığında aşağıdaki durumlardan hangisi gerçekleşmez?

- A) Bütün bireyler yasalar önünde eşit işlem görürler.  
B) Farklı özelliklere sahip insanlara ayırım yapılır.  
C) Bireyler yaşamlarını hukuk kurallarına göre düzenlerler.  
D) Toplumda hiçbir kimse ayrıcalıklı olamaz.

11. Aşağıdakilerden hangisi ahlâk kurallarının özelliklerinden değildir?

- A) Yazılı kurallardır.  
B) Zaman içinde değişebilir.  
C) Toplumdan topluma değişebilir.  
D) İnsan davranışları iyi ve kötü olarak değerlendirilir.

12. Aşağıdakilerden hangisi etik değer sayılamaz?

- A) Güvenilir olmak  
B) Sorumlulukları yerine getirmek  
C) Haksızlıklara karşı hoşgörülmek  
D) Başkalarının haklarına saygılı olmak

### 3. OTURUM

13. Aşağıdakilerden hangisi, insan olma bilincine sahip olmanın gereği olan bir durumdur?

- A) Bireysel çıkarları ön plânda tutma
- B) İnsana ve çevreye değer verme
- C) Doğal kaynakları sınırsızca tüketme
- D) Hak ihlâllerine tepkisiz kalma

14. “Kişinin kendi davranışlarının veya kendi yetki alanlarına giren herhangi bir olayın sonuçlarını üstlenmesidir.” biçiminde tanımlanan kavram aşağıdakilerden hangisidir?

- A) Sorumluluk
- B) Etik
- C) Özgürlük
- D) Değer

15. Aşağıdakilerden hangisi sağlık hakkıyla doğrudan ilişkili bir haktır?

- A) Eğitim hakkı
- B) Çevre hakkı
- C) Dilekçe hakkı
- D) Seçme ve seçilme hakkı

16. T.C. Anayasası’na göre, aşağıdakilerden hangisi siyasi partilere giremez ve üye olamazlar?

- A) Esnaflar
- B) Üniversite öğretim üyeleri
- C) İşçiler
- D) Kamu görevlileri

17. T.C. Anayasası’na göre

- Devlet sırrı niteliğindeki bilgilerin açıklanmaması
- Aile ve kişilerin özel yaşamlarının korunması
- Suçların önlenmesi, suçluların cezalandırılması
- Kişilerin meslek sırlarının korunması

amacıyla aşağıdakilerden hangisine bağımsız mahkemelerde yargıç kararıyla sınırlama getirilebilir?

- A) Yaşama hakkına
- B) Eğitim hakkına
- C) Düşünceyi ifade özgürlüğüne
- D) Mülk edinme hakkına

18. Din ve vicdan özgürlüğünün sağlanmasının ön koşulu olan ilke aşağıdakilerden hangisidir?

- A) Egemenlik
- B) Laiklik
- C) Bağımsızlık
- D) Devletçilik

19. T.C. Anayasası’na göre yürütme yetki ve görevi hangisine aittir?

- A) Türkiye Büyük Millet Meclisi’ne
- B) Anayasa Mahkemesi’ne
- C) Cumhurbaşkanı ve Bakanlar Kurulu’na
- D) Türkiye Büyük Millet Meclisi Başkanı’na

20. “Bir düşünce veya sanat eserini yaratan kişinin bu eseri üzerindeki haklarının tümüdür.” biçiminde tanımlanan hak aşağıdakilerden hangisidir?

- A) Telif Hakkı
- B) Patent Hakkı
- C) Dilekçe Hakkı
- D) Seçme Hakkı

#### DİN KÜLTÜRÜ ve AHLAK BİLGİSİ - 7

- 1. I- İnanç esasları  
II- Peygamberlerin hayatları  
III- Ahlak kuralları  
IV- Coğrafi keşifler

Yukarıda verilenlerden hangileri Kur’an-ı Kerim’de yer alan konulardandır?

- A) I – III – IV
- B) I – II – IV
- C) I – II – III
- D) II – III – IV

2. Kur’an-ı Kerim hakkında aşağıdakilerden hangisi yanlıştır?

- A) Kur’an-ı Kerim Arapça olarak indirilmiştir.
- B) Hz. Muhammed’e verilen en büyük mucizedir.
- C) İnsanlığa gönderilen son ilahî kitaptır.
- D) Hz. Muhammed’in vefatından sonra yazıya geçirilmiştir.

3. Hz. Muhammed’e inen Kur’an ayetlerini yazıya geçirmekle görevli kişilere ne ad verilir?

- A) Sahabe
- B) Kırmen Kâtibin
- C) Vahiy Kâtipleri
- D) Vahiy meleği

4. Sureleri meydana getiren cümlelere ne ad verilir?

- A) Cüz
- B) Mushaf
- C) Hadis
- D) Ayet

### 3. OTURUM

5. Ahlaklı bir insanda aşağıdaki davranışlardan hangisi görülmez?

- A) Verdiği sözü tutmak
- B) Başkalarına saygılı davranmak
- C) Yalan yere şahitlik etmek
- D) Çevresini kirletmemek

6. Aşağıdakilerden hangisi İslam dininin yasakladığı davranışlardan değildir?

- A) Tasarruf
- B) İftira
- C) Kıskançlık
- D) Hile

7. Bir müslümana haccın farz olması için bazı şartları taşıması gerekir. Aşağıdakilerden hangisi bu şartlardan değildir?

- A) Zengin olmak
- B) Yaşlı olmak
- C) Sağlıklı olmak
- D) Hür olmak

8. Hac veya umre ibadeti için Mekke'ye gelen bir kimsenin Safa ve Merve tepeleri arasında yedi kez gidip gelmesine ne ad verilir?

- A) Vakfe
- B) Tavaf
- C) Sa'y
- D) İhram

9. Kurban ibadeti ile ilgili aşağıdaki bilgilerden hangisi yanlıştır?

- A) Koyun veya keçi, yalnızca bir kişi adına kurban edilir.
- B) Sığır veya manda, 1-7 kişi adına kurban edilebilir.
- C) Deve en az beş yaşında kurban edilir.
- D) Kurban bayramının dört gününde de kurban kesilebilir.

10. Aşağıdakilerden hangisi meleklerin özelliklerinden değildir?

- A) Gelecek ve gaybla ilgili her şeyi bilirler.
- B) Cinsiyet, evlenme ve çoğalma özellikleri yoktur.
- C) Nurdan yaratılmışlardır.
- D) Çok hızlı hareket edebilirler.

11. Kıyamet gününde sûra üflemeyle görevli melek hangisidir?

- A) Cebrail
- B) Mikail
- C) İsrail
- D) Azrail

12. Kur'an'da meleklerin şöyle dua ettiği anlatılır: "Rabbimiz! Müminleri ve atalarından, eşlerinden, soylarından iyi olanları, kendilerine söz verdiğin Adn cennetlerine koy: şüphesiz güçlü olan, hâkim olan ancak sensin." (Mü'minun Suresi, 8. ayet)

Bu ayette meleklerin hangi özellikleri ön plana çıkmaktadır?

- A) İyi ve güzel davranışları sevmek
- B) Zor zamanlarında insanlara yardım etme
- C) İnsanları kötülöklere karşı koruma
- D) İnsanlar için dua etme ve onların iyiliğini isteme

13. Kur'an'ı doğru anlayan bir insanda aşağıdaki davranışlardan hangisi görülmez?

- A) Hoşgörü
- B) Taassup
- C) Yardımlaşma
- D) Doğruluk

14. "Sakın Allah'ın rahmetinden ümit kesmeyin." (Zümer Suresi, 53. ayet)

Yukarıdaki ayet, Allah'ın daha çok hangi özelliğine işaret etmektedir?

- A) Bağışlayıcı olması
- B) Kullarını sevmesi
- C) Adaletli olması
- D) Mükâfatlandırıcı olması

15. Çocukların yetişmesinde sorumluluk, birinci derecede ..... aittir.

Verilen ifadede boş bırakılan yere aşağıdakilerden hangisi gelmelidir?

- A) Okullara
- B) Ailelere
- C) Öğretmenlere
- D) Yetkililere

16. Aşağıdakilerden hangisi ilahî bir dindir?

- A) Budizm
- B) Taoizm
- C) Hinduizm
- D) Musevilik

17. Aşağıdakilerden hangisi Hristiyanlığa ait mezheplerden biri değildir?

- A) Katoliklik
- B) Ortodoksluk
- C) Ruhbanlık
- D) Protestanlık

### 3. OTURUM

18. İslam dini için aşağıdakilerden hangisi yanlıştır?

- A) Son ilahî dindir.
- B) Bütün insanlığa gönderilmiştir.
- C) Tevhit inancına dayanır.
- D) Sadece inançla ilgilidir.

19. Reenkarnasyon (ruh göçü) aşağıdaki dinlerden hangisine ait bir öğretiler?

- A) Hinduizm
- B) Musevilik
- C) Hristiyanlık
- D) Taoizm

20. • Toplumu yönetirken din kurallarına bağlı kalınmaz.  
• Vatandaşlar dinî inanç ve yaşayışlarında serbesttirler.

Yukarıda verilen bilgiler hangisiyle daha yakından alakalıdır?

- A) İfade özgürlüğü
- B) Laiklik
- C) Hürriyet
- D) Hukuk

TEST BİTTİ.  
CEVAPLARINIZI KONTROL EDİNİZ.

Bu soru kitapçığının her hakkı saklıdır. Hangi amaçla olursa olsun, kitapçığın tamamının veya bir kısmının Millî Eğitim Bakanlığı Eğitim Teknolojileri Genel Müdürlüğü'nün yazılı izni olmadan kopya edilmesi, fotoğraflarının çekilmesi, bilgisayar ortamına alınması, herhangi bir yolla çoğaltılması, yayımlanması veya başka bir amaçla kullanılması yasaktır. Bu yasağa uymayanlar, doğabilecek cezai sorumluluğu ve kitapçığın hazırlanmasındaki mali külfeti peşinen kabullenmiş sayılır.



## CEVAP ANAHTARI

### TÜRKÇE - 7

1. A
2. C
3. D
4. B
5. A
6. B
7. C
8. B
9. D
10. A
11. D
12. A
13. A
14. D
15. D
16. C
17. B
18. D
19. C
20. B

### FEN BİLGİSİ. - 7

1. D
2. A
3. B
4. C
5. D
6. A
7. C
8. D
9. A
10. B
11. D
12. B
13. A
14. C
15. B
16. A
17. A
18. C
19. D
20. B

### VATANDAŞLIK - 7

1. C
2. A
3. C
4. B
5. D
6. A
7. C
8. D
9. D
10. B
11. A
12. C
13. B
14. A
15. B
16. D
17. C
18. B
19. C
20. A

### DİN KÜLTÜRÜ - 7

1. C
2. D
3. C
4. D
5. C
6. A
7. B
8. C
9. D
10. A
11. C
12. D
13. B
14. A
15. B
16. D
17. C
18. D
19. A
20. B